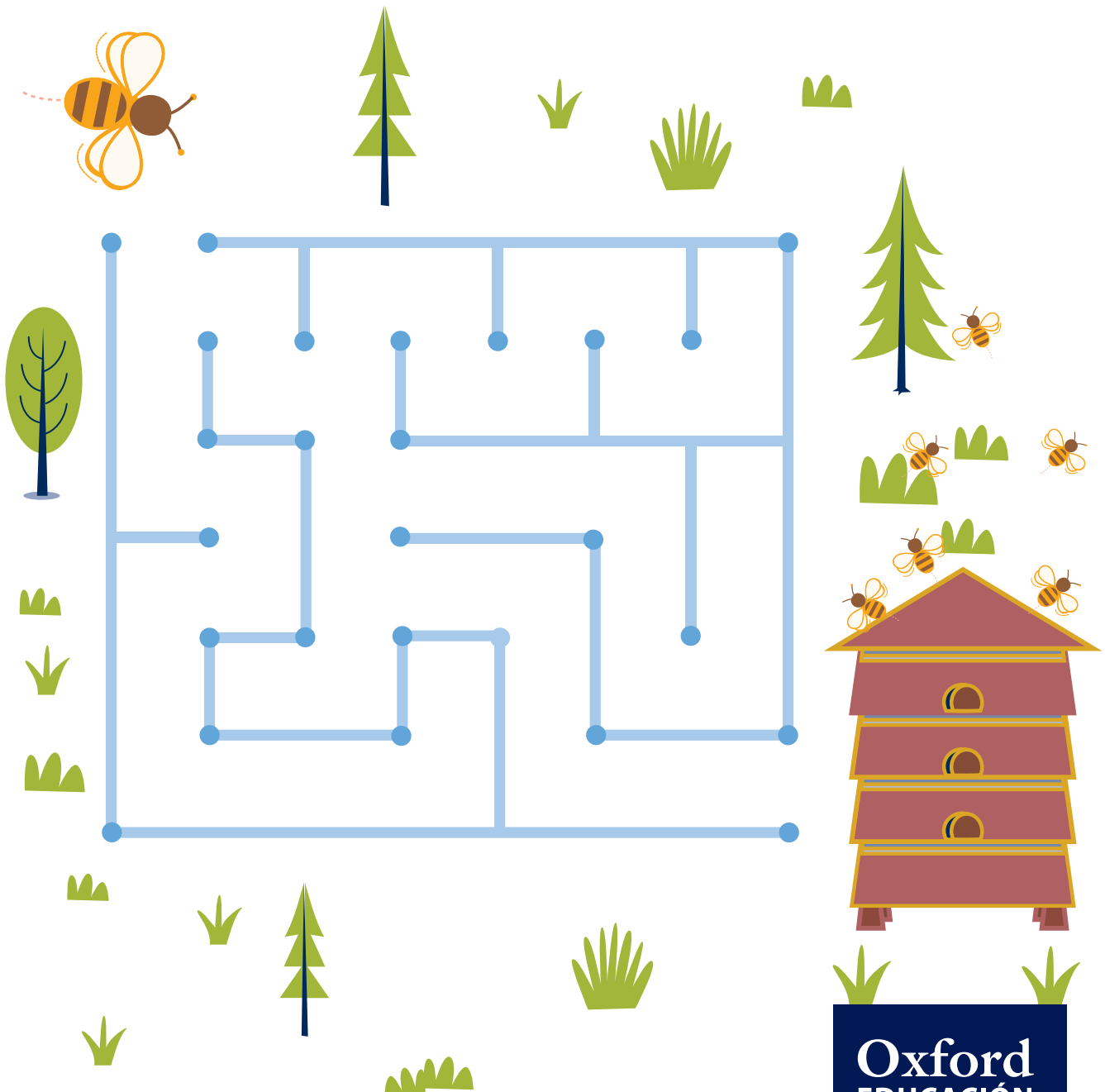


**MUESTRA PARA EVALUACIÓN DOCENTE**  
Contiene fichas representativas de cada grupo de actividades

# Geometría, Medida y Estadística

1

PRIMARIA

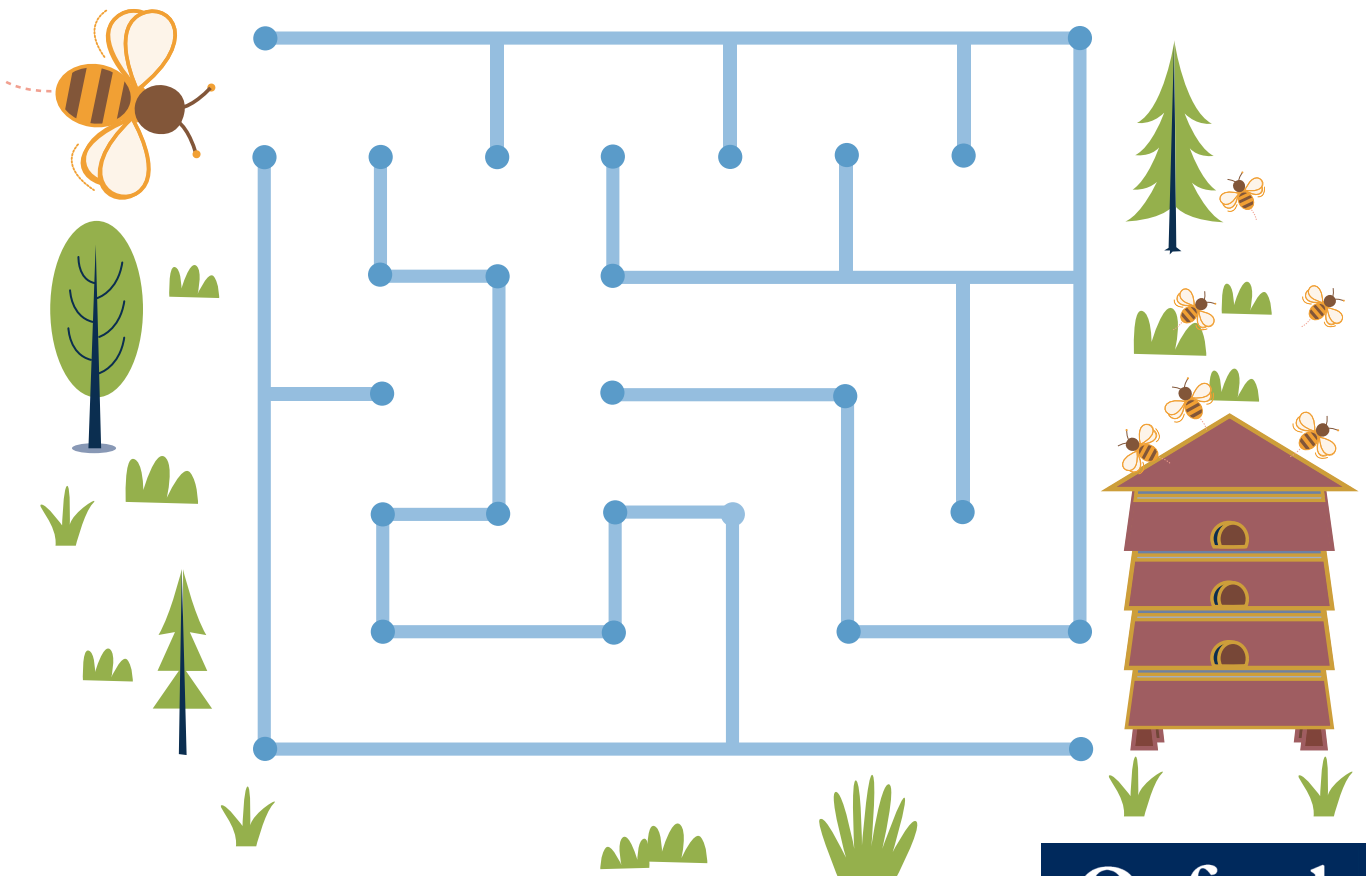


# Geometría, Medida y Estadística

# 1

PRIMARIA

Nombre ..... Curso .....



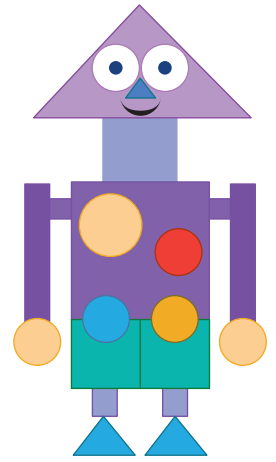
**Material necesario:** Figuras planas (círculos, triángulos, cuadrados y rectángulos)

Fecha .....

## Buscar figuras

Observa este dibujo, cuenta y completa.

cuadrados →       rectángulos →   
 triángulos →       círculos →



Inventa un dibujo utilizando cuadrados, rectángulos, triángulos y círculos.

¿Cuántas figuras de cada tipo hay en tu dibujo?

cuadrados →       rectángulos →   
 triángulos →       círculos →




Notas

**Material necesario:** Bloques geométricos (o Imprimibles del 19 al 24 impresos y recortados en cartulina) y otros materiales para construir patrones


Fecha .....

## Crear patrones

Observa y continúa este patrón.



Inventa y dibuja un patrón diferente al anterior.



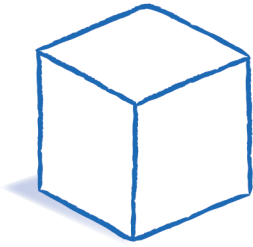
Notas

**Material necesario:** Cuerpos geométricos (cubos, ortoedros, pirámides, cilindros, conos y esferas)

Fecha .....

## Clasificar cuerpos geométricos


Busca objetos en tu clase que tengan esta forma y escribe su nombre.



\_\_\_\_\_

\_\_\_\_\_


\_\_\_\_\_



\_\_\_\_\_

\_\_\_\_\_

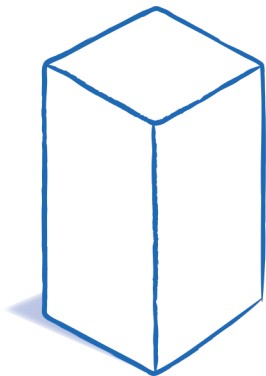
\_\_\_\_\_



\_\_\_\_\_

\_\_\_\_\_

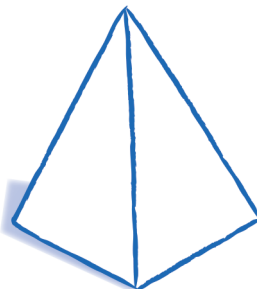
\_\_\_\_\_



\_\_\_\_\_

\_\_\_\_\_

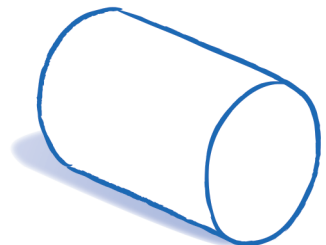
\_\_\_\_\_



\_\_\_\_\_

\_\_\_\_\_

\_\_\_\_\_



\_\_\_\_\_

\_\_\_\_\_

\_\_\_\_\_

Colorea las figuras anteriores según el código.

 No tiene esquinas.

 Tiene 5 esquinas.

 Tiene 1 esquina.

 Tiene 8 esquinas.



Notas

**Material necesario:** Cuerpos geométricos (cubos, ortoedros, pirámides, cilindros, conos y esferas)

Fecha .....

## Descubrir cuerpos geométricos

¿Qué forma tienen los objetos y alimentos de este dibujo?




---



---



---



---



---



---




---

Cuenta y escribe cuántos hay de cada tipo.

cubo →       ortoedro →       pirámide →

cono →       cilindro →       esfera →



Notas

Fecha .....

# El mapa del tesoro

¡El pirata ha perdido su tesoro! Sigue las indicaciones y marca dónde está escondido.

1 ↓

1 →

2 ↓

1 ←

3 ↓

3 →

2 ↑

2 →

¿Hay otro camino más rápido para llegar al tesoro? Escribe las indicaciones.

---



---



---



Notas


**Material necesario:** Material que los alumnos puedan utilizar para medir longitudes

Fecha .....

## Más alto y más bajo

Olivia tiene estos juguetes en la estantería de su habitación.

Rodea el más bajo y tacha el más alto.



¿Hay juguetes en la estantería que tengan la misma altura? ¿Cuáles?

---



---



---

Dibuja un rectángulo en la estantería más bajo que el robot y más alto que el conejo.



Notas

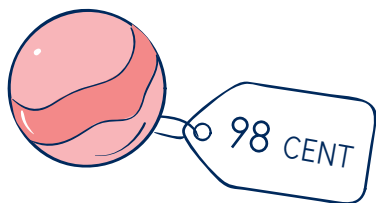
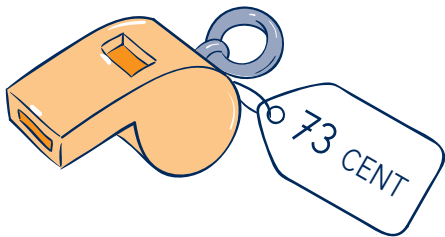



Material necesario: Monedas de céntimo de euro

Fecha .....

## Comprar juguetes


¿Qué monedas necesitas para comprar estos juguetes? Dibújalas.

**Notas**

**Material necesario:** Reloj de arena de un minuto de duración

Fecha .....

## En un minuto



Escribe algo que puedas hacer más de una vez en un minuto.

---

---

---

¿Cuántas veces crees que puedes hacerlo?

---

---


---

Ahora, utiliza un reloj de arena para comprobarlo. ¿Cuántas veces has contado?

---

---

---

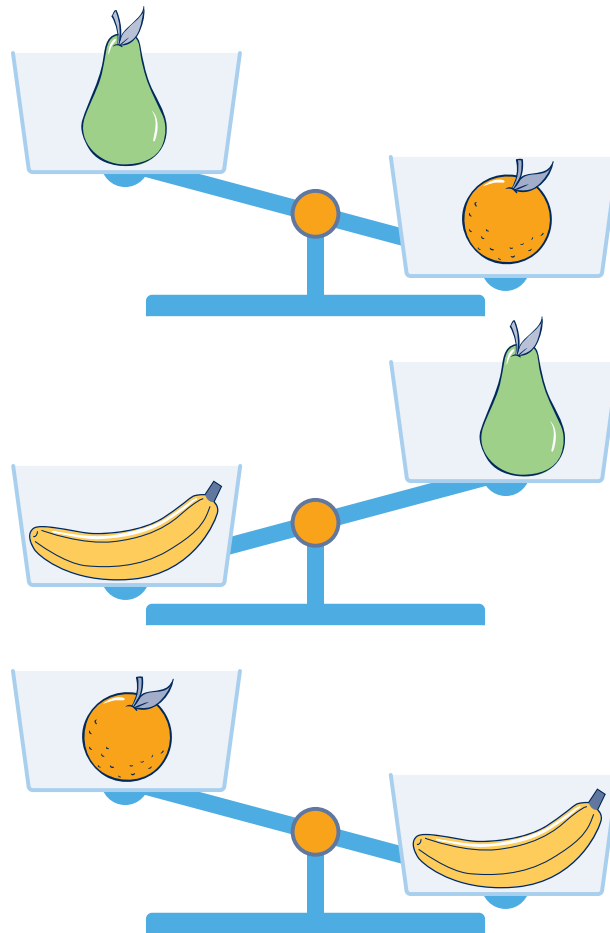
**Notas**

Material necesario: Balanza Numicon

Fecha .....

# Comparar pesos

Fíjate en estas balanzas.



Piensa y dibuja las frutas de menor a mayor peso.



Notas

Fecha .....

## Lavar el coche

Manuel ha llenado el cubo con 8 botellas de agua para lavar el coche con su madre.




Esta es la cantidad de agua que le ha sobrado.



¿Cuántas botellas ha utilizado?

Ha utilizado  botellas.

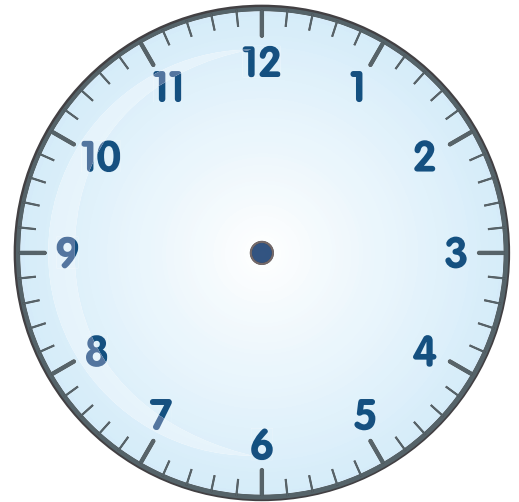


Notas

Fecha .....

¿Qué hora es?

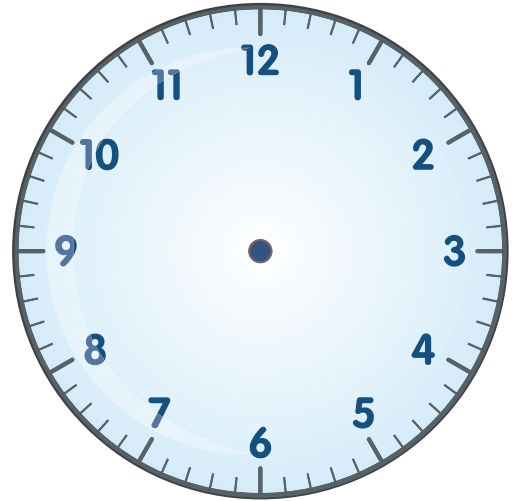
Dibuja las agujas en este reloj marcando una hora en punto.



¿Qué haces a esta hora del día?

A las  en punto

Dibuja las agujas en este reloj marcando una hora y media.



¿Qué haces a esta hora del día?

A las  y media



Notas

